


**UPSSSC  
JE**

**Previous Year Paper  
2015 Paper 1**



इस प्रश्न-पुस्तिका की सील तब तक न खोलें जब तक कहा न जाए ।

इस पुस्तिका में 32 पृष्ठ हैं । / This booklet contains 32 pages.

प्रश्न-पुस्तिका संख्या / Question Booklet No.

सीरीज / Series **EJE-2015** (1st Meeting)

अनुक्रमांक (अंकों में) / Roll No. (in digits)

अनुक्रमांक (शब्दों में)  
Roll No. (in words)

निर्धारित समय : 2.30 घंटे  
Time Allowed : 2.30 hours

अधिकतम अंक : 375  
Maximum Marks : 375

- प्रश्नों के उत्तर देने के लिए केवल काले बॉल-प्वाइंट पेन का इस्तेमाल करें।  
**Use Black Ball-point pen only for marking the responses.**
- अभ्यर्थी उत्तर-पत्रक पर उत्तर देने से पहले सभी अनुदेशों को सावधानीपूर्वक पढ़ लें।  
Candidate must read all the instructions carefully before marking the responses.
- आपको प्रश्नों के उत्तर केवल उत्तर-पत्रक पर ही देने हैं।  
You have to mark your answers on Answer-Sheet only.
- परीक्षा के उपरान्त उत्तर-पत्रक अन्तरीक्षक को लौटा दें।  
After the examination is over, hand over the Answer-Sheet to the Invigilator.

महत्वपूर्ण अनुदेश :

- 1 सभी प्रश्नों के उत्तर दें।
- 2 इस प्रश्न-पुस्तिका में कुल 175 प्रश्न हैं, जिनमें निम्नलिखित दो भाग हैं :  
भाग-I : सामान्य हिन्दी तथा अंग्रेजी  
(75 प्रश्न, प्रत्येक प्रश्न एक अंक का होगा।)  
भाग-II : सामान्य बुद्धि परिक्षण तथा सामान्य जानकारी,  
सामान्य कम्प्यूटर ज्ञान  
(100 प्रश्न, प्रत्येक प्रश्न तीन अंक का होगा।)
- 3 OMR उत्तर-पत्रक पर दिए गए स्थान पर अभ्यर्थी अपना सही अनुक्रमांक, पंजीकरण संख्या, वर्ग, प्रश्न-पुस्तिका संख्या, परीक्षा केन्द्र कोड, प्रश्न-पुस्तिका सीरीज, जन्म-तिथि तथा लिंग अंकित करे अन्यथा उत्तर-पत्रक का मूल्यांकन नहीं किया जाएगा और उसकी जिम्मेदारी स्वयं अभ्यर्थी की होगी।
- 4 प्रत्येक प्रश्न के चार वैकल्पिक उत्तर दिए गए हैं। अभ्यर्थी सही उत्तर निर्दिष्ट करते हुए, जैसा कि नीचे दिखाया गया है, उनमें से केवल एक गोले अथवा बबल को उत्तर-पत्रक पर बॉल-प्वाइंट पेन से पूरा काला कर दें। एक से अधिक उत्तर/विकल्प देने की दशा में प्रश्न के उत्तर को गलत माना जाएगा एवं उसे जांचा नहीं जाएगा।  
उदाहरण : ● ○ ○ ○ ○
- 5 रफ कार्य इस प्रश्न पुस्तिका में निर्धारित स्थान पर ही करें।
- 6 उत्तर पत्रक पर किसी प्रकार के संशोधन हेतु व्हाइटनर या ब्लेड आदि के प्रयोग की अनुमति नहीं है।
- 7 इलेक्ट्रॉनिक कैल्कुलेटर और मोबाइल आदि का प्रयोग करने की अनुमति नहीं है।
- 8 परीक्षा समाप्ति के पश्चात् आप अपनी प्रश्न-पुस्तिका ले जा सकते हैं।
- 9 कोई नकारात्मक मूल्यांकन नहीं होगा।

IMPORTANT INSTRUCTIONS :

- 1 Answer all questions.
- 2 This Questions Booklet contains 175 questions in all comprising the following four parts:  
Part-I : General Hindi and English  
(75 Ques., Carrying One Mark Each)  
Part-II : General Intelligence Test and General Awareness, General Computer knowledge  
(100 Ques. Carrying Three Marks Each)
- 3 The candidates should indicate the correct Roll Number, Registration No., Category, Questions Booklets No., Exam Centre Code, Questions Booklet Series, Date of Birth and Sex on the OMR Answer-Sheet otherwise the Answer-Sheet will not be evaluated and the candidate will be solely responsible for it.
- 4 Each question has four alternative answers. The candidate has to darken only one circle/bubble on the Answer-Sheet using blackball-point pen indicating the correct answer as shown. If more than one answer/option is found darkened, then the question will be treated wrong and will not be evaluated.  
Example : ● ○ ○ ○ ○
- 5 Rough work is to be done in the space provided in the question Booklet only.
- 6 Use of white fluid or blade for correction on the Answer-sheet is not permissible.
- 7 Use of Electronic Calculation and Mobile, etc., is not permissible.
- 8 After completion of examination, you are allowed to take away your Question Booklet.
- 9 There is no negative marking.

**DO NOT OPEN THE SEAL OF THE QUESTION BOOKLET UNTIL YOU ARE TOLD TO DO SO**

भाग-I : सामान्य हिन्दी तथा अंग्रेजी / PART-I : General Hindi and English

- 1/ स्वर संधि का उदाहरण है ?  
(A) अन्वय (B) किंचित् 1  
(C) तद्रूप (D) नीरस
- 2 कौन उष्म व्यंजन नहीं है ?  
(A) श (B) ष  
(C) ग (D) स
- 3 संयुक्त व्यंजन 'झ' बनता है ?  
(A) ग+ज (B) ज्+ञ  
(C) ग्+न (D) क्+ग
- 2 कौन हिन्दी की उपभाषा नहीं है—  
(A) मराठी (B) पश्चिमी हिन्दी  
(C) पूर्वी हिन्दी (D) राजस्थानी
- 5 शुद्ध शब्द है ?  
(A) अनाधिकार (B) अहिल्या  
(C) अन्तर्ध्यान (D) उपर्युक्त
- 3 'कला का अंतिम और सर्वोच्च ध्येय सौंदर्य है' वाक्य में कितने विशेषण हैं ?  
(A) एक (B) चार 3  
(C) पाँच (D) तीन
- 4 कौन तुर्की शब्द नहीं हैं—  
(A) बावर्ची (B) बेगम 9  
(C) डेरा (D) दरोगा
- 5 'कमल' का पर्यायवाची है ?  
(A) अम्बर (B) दिनकर 5  
(C) नीरज (D) पुष्प
- 9 'ऋजु' का विलोम है ?  
(A) सरल (B) सीधा  
(C) तिर्यक (D) वक्र
- 10 इसमें कौन सा तत्पुरुष समास है—  
(A) अजन्म (B) आश्रयित  
(C) शीतोष्ण (D) अष्टाध्यायी

- 11 'जो मोक्ष चाहता हो' के लिए शब्द है?  
 (A) मुमुक्षु (B) मुमुक्ष  
 (C) मुमुक्ष (D) ममुक्ष
- 12 'व' व्यंजन है:  
 (A) ऊष्म (B) अन्तस्थ  
 (C) महाप्राण (D) अघोष
- 13 'सुवरन' शब्द है—  
 (A) तद्भव (B) तत्सम  
 (C) विदेशी (D) देशज
- 14 'जबान पर लगाम न होना'  
 (A) स्पष्टवादी होना (B) अनावश्यक रूप से स्पष्टवादी होना  
 (C) सदैव कठोर वचन कहना (D) सर्वत्र अपनी वाग्मिता दिखाना
- 15 अरण्य—चन्द्रिका  
 (A) जंगल की सुन्दरी (B) जंगल में मंगल  
 (C) निष्प्रयोजन पदार्थ (D) निरर्थक बनाव—शृंगार
- 16 'जिसे प्रमाण द्वारा सिद्ध न किया जा सके' उसके लिए सही शब्द है—  
 (A) अप्रमाणित (B) अनुप्रमेय  
 (C) अप्रमेय (D) अप्रमाणिक
- 17 'गिरा हुआ' के लिए एक शब्द है—  
 (A) पतित (B) लुंठित  
 (C) धराशायी (D) पाल्की
- 18 'षट्पट' का पर्यायवाची शब्द है—  
 (A) तितली (B) भ्रमर  
 (C) मकड़ी (D) केकड़ा
- 19 कौन सा शब्द गणेश का पर्यायवाची नहीं है—  
 (A) विनायक (B) एकदन्त  
 (C) धनद (D) लम्बोदर
- 20 तद्भव शब्द है ?  
 (A) शकट (B) घात  
 (C) काँच (D) गोपाल

21 निम्नलिखित में कौन-सा वाक्य शुद्ध है ?

- (A) उसने अपनी कमाई का अधिकांश भाग गंवा दिया।  
(B) वह अपनी कमाई का अधिकांश भाग गंवा बैठा।  
(C) उसने कमाई का अधिकांश भाग गंवा डाला।  
(D) उसने अपनी कमाई का अधिकांश गंवा दिया।

22 सही वर्तनी है?

- (A) षष्ठ (B) षष्ठम्  
(C) षष्टम् (D) षष्ट

23 'अध' का विलोम है—

- (A) पूर्ण (B) समाप्त  
(C) रति (D) खत्म

24 कौन सा शब्द बहुब्रीहि समास के अन्तर्गत आता है—

- (A) वीणापाणि (B) दुमाता  
(C) लालपीला (D) विद्याभ्यास

25 कौन सा शब्द सूर्य का पर्यायवाची नहीं है—

- (A) मार्तण्ड (B) मरीची  
(C) पतंग (D) केशरी

26 पवन का संधि-विच्छेद होगा—

- (A) पो + अन (B) पौ + अन  
(C) प + वन (D) पो + वन

27 कौन सा शब्द कर्मधारय समास नहीं है—

- (A) नीलगाय (B) प्रियसखा  
(C) कृताकृत (D) विद्याभ्यास

28 कौन सा शब्द आँख का पर्यायवाची नहीं है—

- (A) चक्षु (B) दृग  
(C) अक्षि (D) अतुल

29 सुशिक्षित में उपसर्ग है—

- (A) पर (B) सु  
(C) उ (D) सी

30 चन्द्रमा का पर्यायवाची नहीं है ?

- (A) मयंक (B) इन्दु  
(C) सुधांशु (D) सरोज

- 31 फूल का तत्सम है ? (12)
- (A) पुहूप (B) पुष्प  
(C) प्रसून (D) सुमन
- 32 कर्म का तद्भव शब्द बताइये
- (A) काम (B) कृत  
(C) क्रिया (D) कार्य
- 33 कौन सा शब्द कमल का पर्यायवाची नहीं है—
- (A) पंकज (B) अम्बुज (13)  
(C) वारिद (D) पदम (15)
- 34 धडाक में प्रत्यय है—
- (A) अक (B) आक  
(C) अप (D) ओक
- 35 वृष्टि न होने से सूखा पड़ने की ..... है।
- (A) आशा (B) चिन्ता (14)  
(C) संभावना (D) आशंका
- 36 अमी का तत्सम रूपः
- (A) अमिय (B) अमृत  
(C) अम्रत (D) अमीय
- 37 रुस में एक बार ..... हुई।
- (A) कांति (B) क्लांति (15)  
(C) क्रांति (D) कृन्ति
- 38 दूध जमाने पर दही के रूप में ..... हो जाता है:
- (A) प्रणत (B) परिणत (16)  
(C) परिणिति (D) परिणीत
- 39 बेमेल को छँटिए:
- (A) सेवा सदन (B) निर्मला (17)  
(C) चंद्रकांता (D) गोदान
- 40 देखि सुदामा की दीनदशा, करुणा करिकै करुनानिधि रोये में कौन सा रस है:
- (A) वियोग (श्रृंगार) (B) रौद्र (18)  
(C) करुण (D) शान्त

**Direction to solve – (Question 41 to 45)**

*Choose the word which is the exact opposite of the given words-*

- 41 Enormous  
(A) Soft (1)  
(C) Tiny (1) (B) Average  
(D) Weak
- 42 ARTIFICIAL  
(A) Red  
(C) Truthful (2) (B) Natural  
(D) Solid
- 43 BUSY  
(A) Occupied  
(C) Relaxed (3) (B) Engrossed  
(D) Engaged
- 44 COMMON  
(A) Rare  
(C) Petty (2) (B) Small  
(D) Poor
- 45 LOVE  
(A) Villainy  
(C) Compulsion (3) (B) Hatred  
(D) Force

**Direction to solve (Question 46 to 50)**

*Find the correctly spelt words-*

- 46 (A) Efficient (5)  
(C) Beterment (3) (B) Treatmeant  
(D) Employd
- 47 (A) Foreign (4) (5)  
(C) Fariegn (4) (5) (B) Foreine  
(D) Forein
- 48 (A) Acommodation (4)  
(C) Accommodation (4) (B) Accomodation  
(D) Acomodation
- 49 (A) Simpjal  
(C) Pattren (4) (B) Bannar  
(D) Modern
- 50 (A) Entrepreneur (10)  
(C) Entrepraneur (10) (B) Entrapreneur  
(D) Enterpreneur
- 51 That which cannot be seen-  
(A) Insensible (9)  
(C) Invisible (9) (B) Intangible  
(D) unseen
- 52 A paper written by hand-  
(A) Handicraft (10)  
(C) Handiwork (10) (B) Manuscript  
(D) Thesis

**Direction to solve (Question 53 to 57)**

*Pick out the best one which can complete the incomplete sentence correctly and meaningfully-*

- 53 I felt somewhat more relaxed \_\_\_\_\_  
(A) but tense as compared to earlier  
(B) and tense as compared to earlier  
(C) as there was already no tension at all  
(D) and tension free as compared to earlier
- 54 He has no money now \_\_\_\_\_  
(A) although he was very poor once  
(B) as he has given up all his wealth  
(C) because he was very rich once  
(D) because he has received huge donation
- 55 He tames animals because he \_\_\_\_\_  
(A) is fond of them  
(B) hates them  
(C) is afraid of them  
(D) wants to set them free
- 56 The officer who had neglected to file his income tax return had to \_\_\_\_\_  
(A) returns the files  
(B) pay a fine  
(C) be rewarded  
(D) play mischief
- 57 The weather outside was extremely pleasant and hence we decided to \_\_\_\_\_  
(A) utilise our time in watching the television  
(B) refrain from going out for a morning walk  
(C) Enjoy a morning ride in the open  
(D) remain seated in our rooms in the bungalow

**Directions to solve (Question 58 to 63)**

*Find the correctly spelt word.*

- 58 Solve as per direction given above—  
(A) Benifitted (B) Benifited (C) Benefited (D) Benefeted
- 59 Solve as per direction given above—  
(A) Bouquete (B) Bouquette (C) Bouquet (D) Boqquet
- 60 Solve as per direction given above—  
(A) Humorous (B) Ganerous (C) Pupolous (D) Maretorious
- 61 Solve as per direction given above—  
(A) Faithfuly (B) Sincerely (C) Truely (D) Affectionatly
- 62 Solve as per direction given above—  
(A) Gaurantee (B) Guarantee (C) Garuntee (D) Guaruntee
- 63 If someone lives in a state of art home, it means its:  
(A) Cheaper  
(B) Moderately comfortable  
(C) Old fashioned  
(D) Modern and technologically advance



64 Skill + ful

- (A) Skillful  
(B) Skilful  
(C) Skillfull  
(D) Skilfull

65 Marry + age

- (A) Marryage  
(B) Marrige  
(C) Marriage  
(D) Mariage

66 Give the future perfect continuous form of "I love"

- (A) I have been loving  
(B) I had been loving  
(C) I shall have been loving  
(D) I shall be loving

67 Give the past perfect continuous form of "I speak" in second person.

- (A) I has been speaking  
(B) You were speaking  
(C) You had spoken  
(D) You had been speaking

68 प्राप्त करना (रिसीव) का अंग्रेजी रूपान्तर:

- (A) Receive  
(B) Recieve  
(C) Receeve  
(D) Recove

69 'कार्मिक' का अंग्रेजी रूपान्तर:

- (A) Personal  
(B) Personnel  
(C) Perusal  
(D) Official

70 Exonerate का हिन्दी रूपान्तर:

- (A) आरोप पत्र प्रस्तुति  
(B) आरोप पुष्टि करना  
(C) आरोप सिद्ध करना  
(D) आरोप मुक्त करना

**Directions to solve (Question 71 to 75)**

*Join these parts to make a meaningful sentence The correct order of parts is the answer-*

- 71 1 I 2 Immediately  
3 Salary 4 My (20)  
5 Want

- (A) 43152 (B) 15432  
(C) 25143 (D) 42351

- 72 1 Bag? 2 You (27)  
3 Seen 4 Have \* 42351  
5 My

- (A) 51432 (B) 42351  
(C) 43512 (D) 42153

- 73 1 Medicine 2 A  
3 Neeta 4 Given (22)  
5 Was

- (A) 51423 (B) 25431  
(C) 42531 (D) 35421

- 74 1 Killed 2 A (28)  
3 Jaswant 4 Bear  
5 Wild

- (A) 31254 (B) 53124  
(C) 23145 (D) 43125

- 75 1 Not 2 Hotel (24)  
3 Comfortable 4 Was  
5 The S 2 4 1 3

- (A) 34521 (B) 53412  
(C) 52413 (D) 34152

**भाग-II : सामान्य बुद्धि परिक्षण तथा सामान्य जानकारी, सामान्य कम्प्यूटर ज्ञान**

- 76 निम्नलिखित में से कौन सा 'पीत क्रान्ति' से संबंधित है ?  
(A) मत्स्य उत्पादन (B) अनाज उत्पादन  
(C) दुग्ध उत्पादन (D) तिलहन उत्पादन
- 77 न्यूनतम समर्थन मूल्य का निर्धारक है ?  
(A) भारतीय कृषि अनुसंधान परिषद (B) राज्य सरकार  
(C) कृषि लागत एवं मूल्य आयोग (D) इनमें से कोई नहीं
- 78 उत्तर प्रदेश का प्रमुख लोकगीत है ?  
(A) धमार (B) बिरहा  
(C) टप्पा (D) कव्वाली
- 79 इनमें से कौन वित्तीय संस्थान नहीं है ?  
(A) आई सी आई सी आई (B) आई डी बी आई  
(C) बी सी सी आई (D) आई एफ सी आई
- 80 एक रूपये के नोट पर किसके हस्ताक्षर होते हैं ?  
(A) रिजर्व बैंक के गवर्नर (B) वित्त सचिव  
(C) वित्त मंत्री (D) प्रधानमंत्री
- 81 'रेगिस्तान का जहाज' किस जानवर को कहा जाता है ?  
(A) घोड़ा (B) ऊँट  
(C) भेड़ (D) हाथी
- 82 हमारे प्लैनेट पृथ्वी के लिए ऊर्जा का मुख्य स्रोत क्या है ?  
(A) सूर्य (B) चन्द्रमा  
(C) अग्नि (D) महासागर
- 83 2015 में भारतीय नौ सेना ने बंगाल की खाड़ी में भारत-अमेरिका के अतिरिक्त किस अन्य देश के साथ साझा अभ्यास 'मालाबार' शुरू किया है ?  
(A) चीन (B) रूस  
(C) ब्रिटेन (D) जपान
- 84 'दादा साहेब फाल्के पुरस्कार' किस क्षेत्र में योगदान के लिए दिया जाता है ?  
(A) क्रिकेट (B) हॉकी  
(C) फुटबाल (D) फिल्म
- 85 संसद में गुजरात राज्य की कितनी सीटें आवंटित हैं ?  
(A) 26 (B) 25  
(C) 20 (D) 21

**PART-II : General Intelligence Test & General Awareness, General Computer knowledge**

- 76 Which of the following is related to Yellow Revolution?  
(A) Fishery (B) Food grains production (1)  
(C) Milk production (D) Oilseeds production
- 77 Minimum support price is decided by  
(A) I.C.A.R (B) State government  
(C) CACP (D) None of these (2)
- 78 The principal folk song of U.P is  
(A) Dhamar (B) Birha  
(C) Tappa (D) Qawwali
- 79 Which one is not finance institute?  
(A) ICICI (B) IDBI (3)  
(C) BCCI (D) IFCI
- 80 One rupee note is signed by?  
(A) Governor of RBI (B) Finance secretary (4)  
(C) Finance minister (D) Prime minister
- 81 Which animal is called 'Ship of Desert'?  
(A) Horse (B) Camel (5)  
(C) Sheep (D) Elephant
- 82 What is the main source of energy on earth?  
(A) Sun (B) Moon (6)  
(C) Fire (D) Ocean
- 83 Besides India-America, Indian navy has started 'MALABAR' fighting exercise 2015 with which country?  
(A) China (B) Russia (7)  
(C) Britain (D) Japan
- 84 In which area 'Dada sahib phalke award' is given?  
(A) Cricket (B) Hockey (8)  
(C) Football (D) Film
- 85 How many seats are fixed for Gujarat State in Parliament (Loksabha)?  
(A) 26 (B) 25  
(C) 20 (D) 21

- 86 निम्नलिखित में से कौन स्कर्वी रोग के इलाज में उपयोगी है ?  
 (A) आम (B) पपीता  
 (C) आँवला (D) बेर
- 87 'आजाद हिन्द फौज' किसके नेतृत्व में लड़ी ?  
 (A) अरविन्द घोष (B) वीर सावरकर  
 (C) जवाहरलाल नेहरू (D) सुभाष चन्द्र बोस
- 88 भारतीय राष्ट्रीय कांग्रेस की स्थापना हुई थी ?  
 (A) 1882 (B) 1884  
 (C) 1885 (D) 1889
- 89 संयुक्त राष्ट्र का मुख्यालय स्थित है -  
 (A) जिनेवा (B) पेरिस  
 (C) न्यूयार्क (D) वाशिंगटन डी. सी.
- 90 विश्व पर्यावरण दिवस कब मनाया जाता है ?  
 (A) 5 जून (B) 7 जुलाई  
 (C) 21 दिसम्बर (D) 23 जून
- 91 स्वस्थ मनुष्य का तापक्रम कितना होता है ?  
 (A) 31° सेंटीग्रेड (B) 98.6° सेंटीग्रेड  
 (C) 37° सेंटीग्रेड (D) 39° सेंटीग्रेड
- 92 आकाश का रंग नीला दिखाई देने का कारण है ?  
 (A) प्रकाश का विवर्तन (B) प्रकाश का प्रकीर्णन  
 (C) प्रकाश का आन्तरिक परावर्तन (D) प्रकाश का अपवर्तन
- 93 भारत में ग्रीष्मकालीन मानसून के प्रवाह की सामान्य दिशा निम्नलिखित में से कौन है ?  
 (A) दक्षिण से उत्तर (B) दक्षिण-पूर्व से दक्षिण-पश्चिम  
 (C) दक्षिण-पश्चिम से दक्षिण-पूर्व (D) दक्षिण-पश्चिम से उत्तर-पूर्व
- 94 भारत में राष्ट्रीय आय की गणना निम्नलिखित में से किसके द्वारा की जाती है?  
 (A) योजना आयोग (B) वित्त मंत्रालय  
 (C) केन्द्रीय सांख्यिकी संगठन (D) रिजर्व बैंक ऑफ इण्डिया
- 95 'त्रिपिटक' निम्नलिखित में से किससे सम्बन्धित है ?  
 (A) जैनियों से (B) बौद्धों से  
 (C) सिक्खों से (D) हिन्दुओं से

86 Which one of the following is useful in the treatment of scurvy disease?

- (A) Mango (B) Papaya  
(C) Aonla (D) Berry

(9)

87 In whose leadership 'Indian National Army' fought?

- (A) Arvind Ghosh (B) Veer Savarkar  
(C) Jawahar Lal Nehru (D) Subhash Chandra Bose

(10)

88 Indian National Congress was established on:

- (A) 1882 (B) 1884  
(C) 1885 (D) 1889

(11)

89 The Headquarters of the United Nation is at-

- (A) Geneva (B) Paris  
(C) New York (D) Washington D.C.

90 When is world Environment Day celebrated?

- (A) 5 June (B) 7 July  
(C) 21 December (D) 23 June

91 What is body temperature of a healthy man?

- (A) 31°C (B) 98.6°C  
(C) 37°C (D) 39°C

(12)

92 Reason for sky to appear blue:

- (A) Diffraction of light (B) Scattering of light  
(C) Internal reflection of light (D) Refraction of light

(13)

93 Which of the following is the general direction of flow of summer monsoon in India?

- (A) From south to north (B) From south east to south west  
(C) From south west to south east (D) From south west to north east

(14)

94 In India, national Income is computed by which of the following?

- (A) Planning commission (B) Ministry of Finance  
(C) Central Statistical Organization (D) Reserve Bank of India

(15)

95 'Tripitaka' is associated with which of the following?

- (A) Jains (B) Buddhists  
(C) Sikhs (D) Hindus

(16)

- 96 निम्नलिखित में से किसे 2015 में चिकित्सा में नोबल पुरस्कार नहीं मिला है ?  
 (A) विलियम सी. कैम्पबेल (B) सतोशी अमूरा  
 (C) तकाकी काजिता (D) यूयू तू
- 97 'मानवाधिकार दिवस' मनाया जाता है ?  
 (A) 10 दिसम्बर को (B) 9 दिसम्बर को  
 (C) 10 नवम्बर को (D) 10 अक्टूबर को
- 98 राष्ट्रीय मतदाता दिवस मनाया जाता है ?  
 (A) 15 जनवरी को (B) 25 जनवरी को  
 (C) 15 फरवरी को (D) 25 फरवरी को
- 99 न्यूक्लियर बम बनाने के लिए निम्न में से किसका उपयोग किया जाता है ?  
 (A) जिरकोनियम (B) यूरेनियम  
 (C) मौलिब्डेनम (D) वेनेडियम
- 100 भारत में पंचायती राज की त्रिस्तरीय व्यवस्था का अनुमोदन किस समिति के द्वारा किया गया था।  
 (A) बलवन्त राय (B) अशोक मेहता  
 (C) हनुमन्त राव (D) जी.बी.के. राव
- 101 भारतीय संविधान की प्रस्तावना में "समाजवादी" शब्द किस संशोधन द्वारा लाया गया था?  
 (A) 32 वाँ (B) 42 वाँ  
 (C) 44 वाँ (D) 74 वाँ
- 102 निम्नलिखित में से कौन सा सिन्धु घाटी की सभ्यता से सम्बन्धित स्थल नहीं है?  
 (A) कालिबंगन (B) रोपड़  
 (C) पाटलिपुत्र (D) लोथल
- 103 रक्त में निम्न की अधिकता से "ब्लू बेबी सिंड्रोम" नामक बीमारी होती है ?  
 (A) आयरन (B) लेड  
 (C) मिथेमोग्लोबिन (D) नाइट्रेट
- 104 भारतीय संविधान के किस अनुच्छेद में चुनाव आयोग का उल्लेख किया गया है?  
 (A) अनुच्छेद 320 (B) अनुच्छेद 322  
 (C) अनुच्छेद 324 (D) अनुच्छेद 326
- 105 लोक सभा में 'शून्यकाल' की अवधि अधिक से अधिक कितनी हो सकती है ?  
 (A) 30 मिनट (B) एक घंटा  
 (C) अनिश्चितकाल के लिए (D) दो घंटे

- 96 Who among the following has not won the Noble Prize in Medicine in 2015?  
 (A) William C. Campbell (B) Satoshi Omura (17)  
 (C) Takaaki Kajita (D) YouYou Tu
- 97 'Human Right Day' is observed on:  
 (A) 10 December ✓ (B) 9 December  
 (C) 10 November (D) 10 October
- 98 National Voters Day is celebrated on-  
 (A) 15<sup>th</sup> January (B) 25<sup>th</sup> January (18)  
 (C) 15<sup>th</sup> February (D) 25<sup>th</sup> February
- 99 Which of the following is used in the preparation of nuclear bombs?  
 (A) Zirconium (B) Uranium (19)  
 (C) Molybdenum (D) Vanadium
- 100 Which committee recommended for three tier panchayati raj system in India?  
 (A) Balwant Rai (B) Ashok Mehta (20)  
 (C) Hanumant Rao (D) G.B.K. Rao
- 101 The term "Socialist" was brought into the Preamble of the Indian Constitution by which amendment?  
 (A) 32<sup>nd</sup> (B) 42<sup>nd</sup> (21)  
 (C) 44<sup>th</sup> (D) 74<sup>th</sup>
- 102 Which of the following is not a Indus Valley Civilization Site?  
 (A) Kalibangan (B) Ropar (22)  
 (C) Patilputra (D) Lothal
- 103 Excess of which of the following in the blood causes the "Blue Baby Syndrome" disease?  
 (A) Iron (B) Lead (23)  
 (C) Methamoglobin (D) Nitrate
- 104 In which article of Indian Constitution provision of Election commission is mentioned?  
 (A) Article 320 (B) Article 322  
 (C) Article 324 (D) Article 326
- 105 What could be the maximum time limit of "Zero Hour" in the Lok Sabha?  
 (A) 30 minutes (B) One hour  
 (C) Indefinite period (D) Two hours



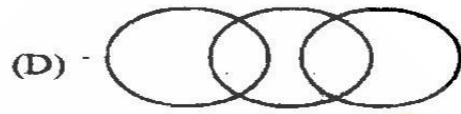
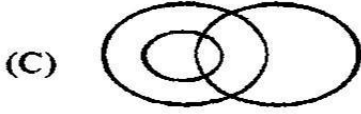
- 106 निम्नलिखित में से किस फसल में उत्तर प्रदेश भारत में सबसे बड़ा उत्पादक नहीं है ?  
 (A) आलू (B) चावल  
 (C) गन्ना (D) गेहूँ
- 107 निम्न में से कौन सा तना है ?  
 (A) शलजम (B) अदरक  
 (C) गाजर (D) शकरकन्द
- 108 'डिस्कवरी आफ इंडिया' पुस्तक के लेखक है ?  
 (A) महात्मा गांधी (B) जवाहरलाल नेहरू  
 (C) बाल गंगाधर तिलक (D) सुभाष चन्द्र बोस
- 109 वह स्थल जहां हर्षवर्धन ने बौद्ध महा-सम्मेलन का आयोजन किया था ?  
 (A) काशी (B) प्रयाग  
 (C) अयोध्या (D) सारनाथ
- 110 उ.प्र. का लोकायुक्त कौन है ?  
 (A) वीरेन्द्र सिंह (B) एन. के. मेहरोत्रा  
 (C) जितेन्द्र सिंह (D) इनमें से कोई नहीं
- 111 इनमें से बिहार का उपमुख्यमंत्री किसे बनाया गया है ?  
 (A) तेजस्वी यादव (B) सुशील कुमार  
 (C) नीतीश कुमार (D) लालू प्रसाद यादव
- 112 चिल्का झील स्थित है ?  
 (A) पश्चिमी बंगाल में (B) आंध्र प्रदेश में  
 (C) उड़ीसा में (D) तमिलनाडु में
- 113 अन्तरिक्ष में भेजा गया भारत का पहला उपग्रह था ?  
 (A) भास्कर (B) रोहिणी  
 (C) आर्यभट्ट (D) एप्पल
- 114 आयात-निर्यात (एग्जिम) बैंक स्थापित हुआ था ?  
 (A) 1981 (B) 1982  
 (C) 1985 (D) 1989
- 115 यदि किसी घड़ी में समय सवा बारह बजे का है और घंटे वाली सुई पूर्व की ओर इंगित करती हो तो मिनट वाली सुई के विपरीत कौन दिशा होगी ?  
 (A) दक्षिण-पश्चिम (B) दक्षिण  
 (C) पश्चिम (D) उत्तर

- 106 In which of the following crops Uttar Pradesh is not the largest producer in India?  
 (A) Potato (B) Rice ✓ (C) Sugarcane (D) Wheat (29)
- 107 Which of the following is a stem?  
 (A) Turnip (B) Ginger (C) Carrot (D) Sweet potato
- 108 The writer of 'Discovery of India'?  
 (A) Mahatma Gandhi (B) Jawaher Lal Nehru (C) Bal Gangadher Tilak (D) Subash Chandra Bose (28)
- 109 The place where Harshavardhan Organised a Buddhist council was  
 (A) Kashi (B) Prayag (C) Ayodhya (D) Sarnath (26)
- 110 Who is Lokayukta of UP?  
 (A) Virendra Singh (B) N.K.Mehrotra (C) Jitendra Singh (D) None of these
- 111 Who has been made deputy Chief Minister of Bihar?  
 (A) Tejasvi Yadav (B) Sushil Kumar (C) Nitish Kumar (D) Lalu Prasad Yadav (27)
- 112 Chilka lake is situated in  
 (A) West Bengal (B) Andhra Pradesh (C) Orissa (D) Tamil Nadu (28)
- 113 The first satellite of India sent into space was  
 (A) Bhaskar (B) Rohini (C) Aryabhata (D) Apple (29)
- 114 Export Import (EXIM) Bank of India was set up in the year  
 (A) 1981 (B) 1982 (C) 1985 (D) 1989 (30)
- 115 The time in a clock is quarter past twelve. If the hour hand points to the east, which is the direction opposite to the minute hand?  
 (A) South-West (B) South (C) West (D) North (30)

- 116 एक घन के छः पृष्ठ अलग अलग रंगों के हैं। लाल पृष्ठ, काले के विपरीत है। हरा, पृष्ठ लाल और काले के बीच में है। नीला पृष्ठ सफेद के आसन्न है तथा भूरा पृष्ठ नीले के आसन्न है। हरे पृष्ठ के आसन्न चार रंग हैं ?  
 (A) लाल, काला, भूरा और सफेद (B) लाल, काला, भूरा और नीला  
 (C) लाल, काला, नीला और सफेद (D) लाल, भूरा, नीला और सफेद
- 117 निम्नलिखित युग्मों में से किसमें वही संबंध है जो है ऑस्ट्रेलिया : महाद्वीप में ?  
 (A) इंजन : रेलगाड़ी (B) नदी : तट  
 (C) विक्रान्त : जहाज (D) यूरी गागरिन : अन्तरिक्ष
- 118 डाक्टर : नर्स में वही सम्बन्ध है जो पुलिस इन्स्पेक्टर ?  
 (A) चोर (B) सिपाही  
 (C) पिस्तौल (D) जेल
- 119 प्रश्न चिन्ह के स्थान पर समुचित संख्या ज्ञात करें।  
 4, 9, 16 ? 36  
 (A) 20 (B) 26  
 (C) 25 (D) 30
- 120 प्रश्न चिन्ह के स्थान पर समुचित शब्द का चयन करें।  
 कान : छल्ला :: नाक : ?  
 (A) हार (B) स्टड  
 (C) पायल (D) कंगन
- 121 एक पेड़ में नौ शाखाएँ हैं। हर शाखा में 9 घोंसले हैं, हर घोंसले में नौ विड़ियों को खाने के लिए नौ दाने चाहिए। कुल कितने दानों की आवश्यकता होगी ?  
 (A) 36 (B) 4781  
 (C) 6561 (D) 7248
- 122 एक महिला की दो लड़कियाँ हैं। अगला बच्चा पैदा होने पर लड़का होने की क्या संभावना होगी ?  
 (A) 1/2 (B) 1/3  
 (C) 1 (D) 1/41
- 123 प्रश्न चिन्हों के स्थान पर कौन सी संख्या होगी ?  
 ?/19 = 76/?  
 (A) 34 (B) 19  
 (C) 47 (D) 38
- 124 निम्न श्रेणी में अगला अंक क्या होगा ?  
 3, 8, 15, 24.....  
 (A) 35 (B) 36  
 (C) 37 (D) 38
- 125 जिस प्रकार जर्नलिस्ट का संबंध होता है समाचारों से, उसी प्रकार फिलाटेलिस्ट का संबंध होता है ?  
 (A) ट्रेन (B) मेडीसिन  
 (C) पोस्टल स्टैम्प (D) एनीमल हसबैंड्री

- 116 A cube has six faces each of a different color. The red face is opposite to black. The green face is in between red and black. The blue face is adjacent to white and brown face is adjacent blue. The four colors adjacent to green are. (3)
- (A) red, black, brown and white (B) red, black, brown and blue  
(C) red, black, blue and white (D) red, brown, blue and white
- 117 Which of the following pairs has the same relationship as is found between Australia: Continent? (32)
- (A) Engine: Train (33) (B) Vikrant: Ship  
(C) River: Coast (D) Yuri Gagarin: Space
- 118 The relationship between Doctor : Nurse is same as in Police Inspector? (33)
- (A) Thief (34) (B) Constable  
(C) Pistol (D) Jail
- 119 Find the suitable number in place of mark of interrogation. (34)
- 4, 9, 16, ?, 36
- (A) 20 (B) 26  
(C) 25 (D) 30
- 120 Suitable word in place of interrogation- (35)
- Ear : ring :: Nose : ?
- (A) Necklace (36) (B) Stud  
(C) Anklet (D) Bracelet
- 121 A tree has nine branches and on each branch there are nine nests. Each nest having nine birds and each birds needs nine grains to be fed. How many grains are needed? (36)
- (A) 36 (B) 4781  
(C) 6561 (D) 7248
- 122 A woman has two daughters. One more child being born. What is the probability of it being a boy? (37)
- (A) 1/2 (38) (B) 1/3  
(C) 1 (D) 1/41
- 123 What is the number in place of the interrogation marks? (38)
- ?/19 = 76/?
- (A) 34 (B) 19  
(C) 47 (D) 38
- 124 Which will be the next number in the following series? (39)
- 3, 8, 15, 24, \_\_\_\_\_
- (A) 35 (B) 36  
(C) 37 (D) 38
- 125 If a Journalist is related with news then a philatelist is related with. (40)
- (A) Trains (B) Medicines  
(C) Postal stamps (D) Animal husbandry

126 निम्नलिखित में से कौन सा चित्र अध्यापक, महिला और मों के बीच सबसे सही सम्बन्ध का दर्शाता है ?



127 यदि 'वर्षा' को 'जल' कहा जाता है 'जल' को 'सड़क' तथा 'सड़क' को 'बादल' कहा जाता है, 'बादल' को 'आकाश' और 'आकाश' को 'समुद्र' तथा 'समुद्र' को 'रास्ता' तो एक हवाई जहाज कहाँ उड़ता है ?

(A) आकाश (B) समुद्र (C) रास्ता (D) बादल

128 निम्नांकित श्रेणी में अगला अक्षर ज्ञात कीजिए ?

जे, एफ, एम, ए, एम, जे, जे.....

(A) जे (B) ए (C) एस (D) टी

129 अंको के निम्नलिखित समूह में कितने ऐसे 6 हैं, जिनके पूर्ववर्ती 9 हो और परवर्ती भी 9 हो ?

6 6 9 6 9 9 9 6 6 6 9 6 9 6 6 9 9 6 6 9 9 6 6 6

(A) 3 (B) 1 (C) 4 (D) 2

130 यदि कोई संख्या 10% बढ़ा देने से 242 हो जाती है, तो मूल संख्या है ?

(A) 230 (B) 220 (C) 232 (D) 252

131 शब्द WASHINGTON में वह कौन सा अक्षर है जो गिनने पर (प्रारम्भ) से वही संख्या है जो वर्णमाला में है ?

(A) N (B) T (C) O (D) G

132 निम्नलिखित में से कौन एक भिन्न है ?

(A) बाबर (B) शेरशाह  
(C) हुमायूँ (D) अकबर

133 निम्नलिखित में से कौन सा एक अन्य से भिन्न है, बताइये ?

(A) उल्लू (B) तोता  
(C) चील (D) बाज

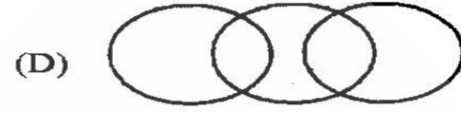

134 रु. 4000 पर 5% की वार्षिक दर से 2 वर्षों में चक्रवृद्धि ब्याज कितना होगा ?

(A) रु 410 (B) रु 420  
(C) रु 421 (D) रु 427

135 चार अंको वाला सबसे छोटा नम्बर जो 7 से विभाजित हो सके ?

(A) 1101 (B) 1108  
(C) 1001 (D) 1007

126 Which of the following diagrams best depicts the relationship between teacher, female and mother?



127 If rain is called 'Water', water is called 'Road', Road is called 'Cloud', Cloud is called 'Sky', Sky is called 'Sea' and 'Sea' is called 'Path', then where does an 'aeroplane' fly?

- (A) Sky (B) Sea  
(C) Path (D) Cloud



128 Find the next letter of the following series

J, F, M, A, M, J, \_\_\_\_\_  
(A) J (B) A  
(C) S (D) T

129 How many 6s are followed by as well as preceded by 9s in the following set of figures?

6 6 9 6 9 9 9 6 6 6 9 6 9 6 6 9 9 6 6 9 9 6 6 6  
(A) 3 (B) 1  
(C) 4 (D) 2

92

130 A number, if increased by 10% becomes 242. The original number is

- (A) 230 (B) 220  
(C) 232 (D) 252

93

131 Which letter in the word WASHINGTON is at the same number in the word (counting from the beginning) as it is in the alphabet?

- (A) N (B) T  
(C) O (D) G

94

132 Which one of the following is the odd one?

- (A) Babar (B) Shershah  
(C) Humayun (D) Akbar

95

133 Find out which one of the following is different from the rest?

- (A) Owl (B) Parrot  
(C) Eagle (D) Hawk

4050

134 What will be the compound interest on 4000 for 2 years at the rate of 5% per annum?

- (A) 410 (B) 420  
(C) 421 (D) 427

96

425

135 The smallest 4 digit number exactly divisible by 7 is

- (A) 1101 (B) 1108  
(C) 1001 (D) 1007

143  
1007  
7

- 136 पाँच संख्याओं का औसत 10 है। कौन सी संख्या जोड़ी जाये ताकि औसत 12 हो जाये?
- (A) 12 (B) 18  
(C) 22 (D) 24
- 137 किसी घन के पृष्ठ का क्षेत्रफल 216 मी<sup>2</sup> है। उसका आयतन होगा—
- (A) 100 मी<sup>3</sup> (B) 216 मी<sup>3</sup>  
(C) 480 मी<sup>3</sup> (D) 512 मी<sup>3</sup>
- 138 ALLAHABAD : DABAHALLA :: VARANASI : ?
- (A) ISARANVA (B) ISAVARAN  
(C) ISANRAAV (D) ISANARAV
- 139 निम्न में से विषम क्या है ?
- (A) तलना (B) सुखाना -  
(C) सफाई करना (D) रोना
- 140 निम्न श्रृंखला  
5, 7, 10, 15, 21, 20, 28, x, y  
में x एवं y के स्थान पर क्रमशः क्या संख्या होगी ?
- (A) 20, 25 (B) 35, 40  
(C) 25, 35 (D) 24, 30
- 141 यदि INDIA के स्थान पर कूट भाषा में 95491 लिखा जाय तो DELHI को किस प्रकार लिखा जायेगा ?
- (A) 45389 (B) 45489  
(C) 45498 (D) 45398
- 142 (4, 3, 2) (16, 9, 4) (256, 81, 16) (65536, ?, ?)
- (A) 1486, 97 (B) 190, 20  
(C) 6651, 286 (D) 6561, 256
- 143 अगर  $246=8$ ,  $624=0$  और  $327=6$  तो  $423 = ?$
- (A) 9 (B) 8  
(C) 1 (D) 10
- 144 BEH, DGJ, NQT, ?
- (A) JMP (B) RMO  
(C) TKL (D) GHD

145



ऊपर दिखाये गये चित्र में त्रिभुजों की कुल संख्या कितनी है ?

- (A) 28 (B) 24  
(C) 20 (D) 16

136 If the average of five numbers is 10. The number which should be added to make the average 12, is  
 (A) 12 (B) 18  
 (C) 22 (D) 24

137 The surface area of a cube is  $216 \text{ m}^2$ . Its volume will be  
 (A)  $100 \text{ m}^3$  (B)  $216 \text{ m}^3$   
 (C)  $480 \text{ m}^3$  (D)  $512 \text{ m}^3$

138 ALLAHABAD : DABAHALLA :: VARANASI : ?  
 (A) ISARANVA (B) ISAVARAN  
 (C) ISANRAAV (D) ISANARAV

139 Select the odd one out in the following  
 (A) Frying (B) Drying  
 (C) Sweeping (D) Crying

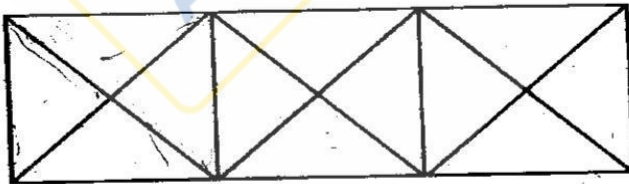
140 In series  
 $5, 7, 10, 14, 15, 21, 20, 28, x, y$   
 What do x and y stand for?  
 (A) 20, 25 (B) 35, 40  
 (C) 25, 35 (D) 24, 30

141 If INDIA is written as 95491, then DELHI will be written as  
 (A) 45389 (B) 45489  
 (C) 45498 (D) 45398

142  $(4, 3, 2) (16, 9, 4) (256, 81, 16) (65536, ?, ?)$   
 (A) 1486, 97 (B) 190, 20  
 (C) 6651, 286 (D) 6561, 256

143 If  $246=8$ ,  $624=0$  and  $327=6$  then what will be  $423=?$   
 (A) 9 (B) 8  
 (C) 1 (D) 10

144 BEH, DGJ, NQT, ?  
 (A) JMP (B) RMO  
 (C) TKL (D) GHD



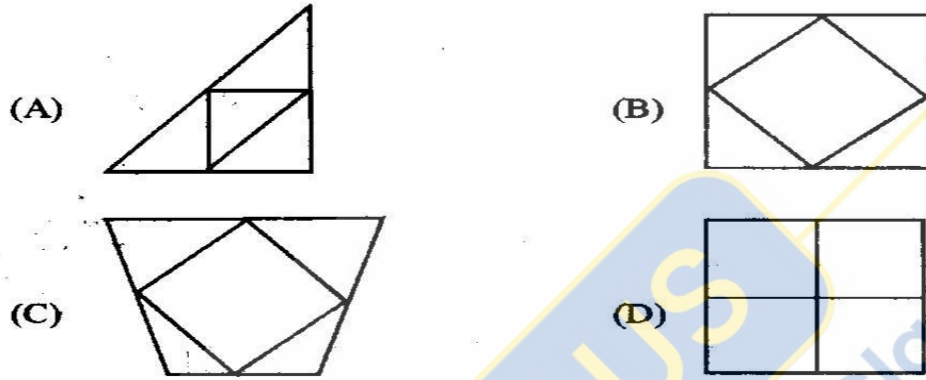
145 How many triangles are there in picture?  
 (A) 28 (B) 24  
 (C) 20 (D) 16



146 किसी कोड में MISCHIEF को NKVGMOLN लिखा जाता है, तो RELIEVED को किस कोड में लिखा जायेगा ?

- (A) SFMJFWEE (B) SGOMJVED  
(C) SEOLJVLD (D) SGOMJBLL

147 कौन सी आकृति अन्य तीनों से भिन्न है ?



148 73 बच्चों की एक कक्षा में अनुज का स्थान ऊपर से 23वाँ है। उसकी नीचे से स्थिति क्या होगी ?

- (A) 48 (B) 49  
(C) 50 (D) 51

149 बेमेल शब्द को चुने ?

- (A) DkUZ (B) LPuB  
(C) FoMY (D) UXeW

150 उचित संख्या भरें ?

7, 18, 60, 73, 117, ?

- (A) 150 (B) 161  
(C) 172 (D) 183

151 सही शब्द चुने ?

QTE, PUF, QVG, RWH, ?

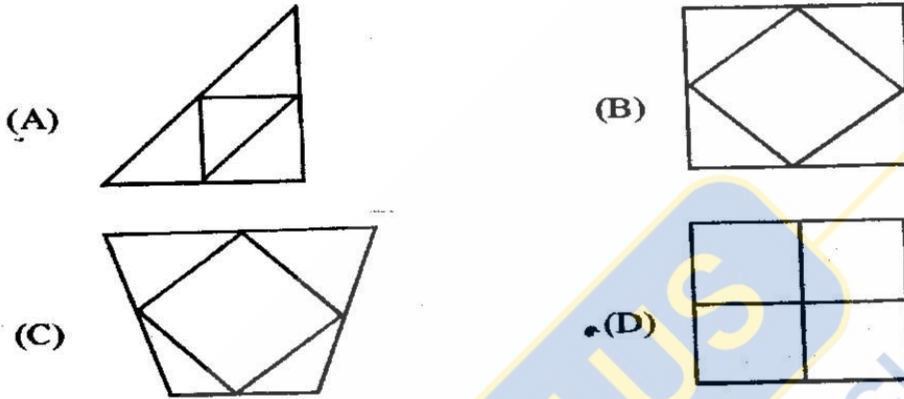
- (A) SYJ (B) TXI  
(C) SKJ (D) SXI

146 In any code MISCHIEF is written as NKVGMOLN then what will be the RELIEVED in same hint.

- (A) SFMJFWEE (B) SGOMJVED  
(C) SEOIJVLD (D) SGOMJBLL

(58)

147 Which picture is different from other these?



(57)

Handwritten calculations:  $\frac{18}{107}$ ,  $\frac{60}{42}$ ,  $\frac{73}{13}$

148 Anuj ranks 23<sup>rd</sup> from the top in a class of 73 children. What is his rank from the bottom?

- (A) 48 (B) 49  
(C) 50 (D) 51

Handwritten calculation:  $73 - 23 = 50$

149 Choose the odd one out.

- (A) DkUZ (B) LPuB  
(C) FoMY (D) UXeW

Handwritten calculation:  $\frac{60}{42}$

150 Choose the correct number?

7, 18, 60, 73, 117, ?

- (A) 150 (B) 161  
(C) 172 (D) 183

Handwritten scribbles and numbers: 50, 58

Handwritten calculations:  $41, 42$ ,  $\frac{73}{13}$ ,  $\frac{117}{4}$

151 Choose the correct word?

OTE, PUF, QVG, RWH, ?

- (A) SYJ (B) TXI  
(C) SKJ (D) SXI

(59)

Handwritten calculation:  $\frac{117}{132}$


152 एक घड़ी में 4 बजकर 30 मिनट हो रहे हैं। यदि घन्टे की सूई उत्तर में है, तो मिनट के सूई की दिशा किस तरफ होगी ?

- (A) पूर्व (B) पश्चिम  
(C) उत्तर-पूर्व (D) उत्तर-पश्चिम

153 मोहन ने एक तस्वीर की ओर इशारा करते हुए कहा कि उसकी माँ मेरी पत्नी है। तो तस्वीर में बनी महिला का मोहन से क्या सम्बन्ध है ?

- (A) बहन (B) माँ  
(C) पत्नी (D) बेटी

154 श्रंखला को पूरा करें ?



- (A) 30 (B) 36  
(C) 38 (D) 40

155 कम्प्यूटर माउस किस प्रकार का डिवाइस है ?

- (A) इनपुट (B) आउटपुट  
(C) साफ्टवेयर (D) स्टोरेज

156 प्रिन्ट देने के लिए क्या सिलेक्ट करेंगे ?

- (A) फाइल (B) टूल्स  
(C) स्पेशल (D) इडिट

157 एम. एस. वर्ल्ड किसका उदाहरण है ?

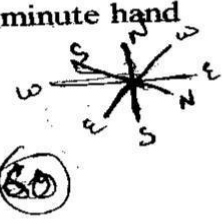
- (A) आपरेटिंग सिस्टम का (B) प्रोसेसिंग डिवाइस का  
(C) एप्लिकेशन साफ्टवेयर का (D) इनपुट डिवाइस का

158 साफ्टवेयर का प्राथमिक उद्देश्य डाटा को .....में बदलना है ?

- (A) वेबसाइट (B) सूचना  
(C) प्रोग्राम (D) ऑब्जेक्ट

152 A WATCH READS 4:30. If the hour hand points in North then minute hand will face which direction?

- (A) East  
 (B) West  
 (C) North- East  
 (D) North- West

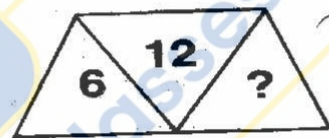
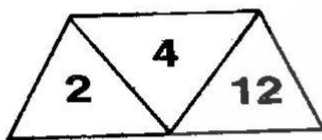


153 Pointing towards a woman in the picture, mohan said, "Her mother is my wife". How is the woman related to mohan?

- (A) Sister  
 (B) Mother  
 (C) Wife  
 (D) Daughter



154 Complete series by the correct answer.



- (A) 30  
 (B) 36  
 (C) 38  
 (D) 40

155 Computer Mouse is this kind of Device?

- (A) Input  
 (B) Output  
 (C) Software  
 (D) Storage

156 What menu is selected to print?

- (A) File  
 (B) Tools  
 (C) Special  
 (D) Edit

157 M.S Word is an Example of

- (A) An operating system  
 (B) A processing device  
 (C) Application software  
 (D) An Input device

158 The main purpose of software is to convert data into

- (A) Website  
 (B) Information  
 (C) Program  
 (D) Object

- 159 कम्प्यूटर भाषा FORTRAN किस क्षेत्र में उपयोगी है ?  
(A) व्यवसाय (B) रेखाचित्र  
(C) विज्ञान (D) वाणिज्य
- 160 कम्प्यूटर भाषा COBOL किसके लिए उपयोगी है ?  
(A) व्यावसायिक कार्य (B) ग्राफिक कार्य  
(C) वैज्ञानिक कार्य (D) इनमें से कोई नहीं
- 161 इन्टरनेट का स्टैण्डर्ड प्रोटोकॉल है ?  
(A) TCP/IP (B) JAVA/जवा  
(C) HTML (D) फ्लैश
- 162 कम्पाइलर है ?  
(A) एक कम्प्यूटर प्रोग्राम  
(B) साफ्टवेयर का भाग  
(C) हाईलेवल से मशीन लैंग्वेज में बदलने वाला प्रोग्राम  
(D) उपर्युक्त सभी
- 163 जटिल वैज्ञानिक गणनाओं के लिए प्रयोग किया जाता है ?  
(A) BASIC (B) FORTRAN  
(C) COBOL (D) PASCAL
- 164 कम्प्यूटर के सभी हार्डवेयर की जांच निम्न से कौन करता है ?  
(A) BIOS (B) हार्डडिस्क  
(C) प्रोसेसर (D) सीडी
- 165 कम्प्यूटर के 'की-बोर्ड' में कितनी वर्णमालाओं की की (KEY) होती हैं ?  
(A) 24 (B) 25  
(C) 26 (D) 27
- 166 कम्प्यूटर की भाषा में 'बग' (BUG) क्या है ?  
(A) कम्प्यूटर वायरस (B) कम्प्यूटर त्रुटि  
(C) डिजाइन बनाना (D) कम्प्यूटर डाटा
- 167 भारत में निर्मित प्रथम सुपर कम्प्यूटर को क्या नाम दिया गया ?  
(A) आकाश (B) एनए  
(C) अर्जुन (D) सिद्धार्थ

159 Computer language FORTRAN is appropriate for \_\_\_\_\_

- (A) Business (B) Graphic  
• (C) Science (D) Commercial

160 Computer language COBOL is appropriate for \_\_\_\_\_

- ✗ (A) Commercial purpose ✗ (B) Graphic purpose  
(C) Scientific purpose ✓ (D) None of these

161 Standard protocol of Internet is:

- ✗ (A) TCP/IP (B) JAVA (67)  
(C) HTML ✗ (D) FLASH

162 Compiler is a :

- (A) A computer programme  
(B) Part of Software  
✗ (C) Programme for converting from high level to machine level (68)  
(D) Above all

163 Which one is used for complex scientific calculation?

- (A) BASIC (B) FORTRAN  
(C) COBOL (D) PASCAL

164 Checking of different hardware parts of computer is done by?

- (A) BIOS (B) Hard disk (68)  
(C) Processor (D) C.D.

165 How many Keys are there on keyboard for alphabet?

- (A) 24 (B) 25 (69)  
• (C) 26 (D) 27

166 What is 'bug' in computers' language?

- ✗ (A) Computer VIRUS • (B) Computer error (70)  
✗ (C) Design making ✗ (D) Computer data

167 What name has been given to the first super computer made in India?

- (A) Akash (B) Param (71)  
(C) Arjun (D) Siddharth

- 168 निम्नांकित में से किस प्रोटोकॉल द्वारा वर्ल्ड वाइड वेब में पहुँच सकता है ?  
(A) एच.टी.टी.पी. (B) एस.एम.टी.पी.  
(C) एस.एल.आई.पी. (D) उपर्युक्त में से कोई नहीं
- 169 एच.टी.एम.एल. का विस्तृत रूप है ?  
(A) हाइब्रिड टेक्स्ट मार्कअप लैंग्वेज (B) हाइपरटेक्स्ट मार्कअप लैंग्वेज  
(C) हायर टेक्स्ट मार्कअप लैंग्वेज (D) उपर्युक्त में से कोई नहीं
- 170 कम्प्यूटर वायरस है -  
(A) ऐसा कम्प्यूटर प्रोग्राम जो स्वयं की प्रतिलिपियाँ बना सके  
(B) ऐसा वायरस जो मनुष्यों के स्वास्थ्य को प्रभावित करे  
(C) उपर्युक्त दोनों  
(D) उपर्युक्त में से कोई नहीं
- 171 'चिपको आन्दोलन' सम्बन्धित है-  
(A) पादप संरक्षण से (B) बाघ परियोजना से  
(C) घड़ियाल परियोजना से (D) पदप प्रजनन से
- 172 निम्न में से कौन सी मेमोरी का सबसे कम एक्सेस समय है ?  
(A) कैश मेमोरी (B) मैग्नेटिक बबल मेमोरी  
(C) मैग्नेटिक कोर मेमोरी (D) रेन्डम एक्सेस मेमोरी
- 173 "माइक्रोसॉफ्ट वर्ड" उदाहरण है-  
(A) एक ऑपरेशन सिस्टम का (B) एक इनपुट डिवाइस का  
(C) एक प्रोसेसिंग डिवाइस का (D) एप्लीकेशन सॉफ्टवेयर का
- 174 वर्चुअल मेमोरी का आकार निर्भर करता है ?  
(A) एड्रेस लाइन्स पर (B) डाटाबेस पर  
(C) डिस्क स्पेस पर (D) ये सभी
- 175 निम्नलिखित में से कौन सी वैज्ञानिक कम्प्यूटर भाषा है ?  
(A) BASIC (B) COBOL  
(C) FORTRAN (D) इनमें से कोई नहीं

168 Which of the following protocol may be used for accessing World Wide Web?

- (A) HTTP (B) S.M.T.P  
(C) S.L.I.P (D) None of the above

72

169 HTML stands for:

- (A) Hybrid Text Markup Language  
(B) Hypertext Markup Language  
(C) Higher Text Markup Language  
(D) None of these

73

170 A computer Virus is

- (A) A computer program that can replicate itself  
(B) A virus that affects health of human being  
(C) Both of the above  
(D) None of the above

74

171 'Chipko Movement' is related to-

- (A) Plant Preservation (B) Project Tiger  
(C) Project Crocodile (D) Plant Breeding

75

172 Which of the following memories has the shortest access time?

- (A) Cache Memory (B) Magnetic Bubble Memory  
(C) Magnetic Core Memory (D) Random Access Memory

76

173 "Microsoft Word" is an example of

- (A) an operation system (B) an input device  
(C) a processing device (D) application software

77

174 Size of virtual memory depends on

- (A) Address line (B) Data Base  
(C) Disc Space (D) All the Above

78

175 Which of the following is a scientific computer language?

- (A) BASIC (B) COBOL  
(C) FORTRAN (D) None of these



**AEC PLUS**

POWERED BY

**Advance Engineering Classes**